

**EPREUVE DE MATHÉMATIQUES**

(Calculatrice non autorisée)

Coefficient : 6

Durée : 4 heures

**EXERCICE N°1** (4 points)

- 1) On considère dans  $\mathbb{C}$  l'équation d'inconnue  $z : (E) : z^2 - \alpha z + \beta = 0$  ( $\alpha \in \mathbb{C}$  et  $\beta \in \mathbb{C}$ )  
Déterminer les valeurs de  $\alpha$  et  $\beta$  pour que  $(E)$  admette pour solutions  $1 + i$  et  $1 - i$ . (1 pt)
- 2) Résoudre sur  $\mathbb{R}$  l'équation différentielle :  $(F) : y'' - 2y' + 2y = 0$  (1 pt)
- 3) On lance deux fois un dé parfait équilibré dont les faces sont numérotées de 1 à 6.  
Les résultats sont des couples  $(a; b)$  où  $a$  et  $b$  sont respectivement les numéros obtenus sur la face supérieure du dé au premier lancer et au second lancer.
  - a) Calculer la probabilité de l'évènement  
A : « obtenir un couple de nombres premiers ». (1 pt)
  - b) Déterminer la probabilité de l'évènement :  
B : « les solutions sur  $\mathbb{R}$  de l'équation différentielle  $y'' - ay' + by = 0$  sont données par  $y(x) = e^x(\lambda \cos x + \mu \sin x)$  où  $\lambda$  et  $\mu$  sont des réels ».  
où  $(a; b)$  est le couple obtenu lors des deux lancers du dé. (1 pt)

**EXERCICE N°2** (4 points)

Le plan est rapporté à un repère orthonormé  $(0, \vec{i}, \vec{j})$  d'unité graphique 4 cm.

On considère la courbe  $(\Gamma)$  dont une représentation paramétrique est :

$$\begin{cases} x(t) = \cos^2 t \\ y(t) = \sqrt{2} \sin t \cdot \cos t \end{cases}, t \in \mathbb{R}.$$

Pour tout réel  $t$ , on note  $M(t)$  le point de coordonnées  $(x(t); y(t))$ .

- 1) a) Comparer les positions des points  $M(t)$  et  $M(t + \pi)$ . (0,25 pt)  
b) Comparer les positions des points  $M(t)$  et  $M(-t)$ . (0,25 pt)  
c) En déduire qu'il suffit de connaître  $(\Gamma)$  sur un intervalle que l'on précisera, pour connaître entièrement  $(\Gamma)$ . (0,5 pt)
- 2) a) Étudier les sens de variations des fonctions de  $x$  et  $y$  sur  $\left[0; \frac{\pi}{2}\right]$ . (1 pt)  
b) Dresser le tableau de variations conjoints de  $x$  et  $y$  sur  $\left[0; \frac{\pi}{2}\right]$ . (0,5 pt)  
c) Tracer la courbe  $(\Gamma)$  dans le repère. (0,5 pt)
- 3) a) Montrer qu'une équation cartésienne de  $(\Gamma)$  est  $2x^2 + y^2 - 2x = 0$ . (0,5 pt)  
b) En déduire la nature de la courbe  $(\Gamma)$ . (0,5 pt)

### PROBLEME (12 points)

On considère la fonction  $f$  définie de  $\mathbb{R}$  vers  $\mathbb{R}$  par :  $f(x) = xe^{2x} + 1, \forall x \in \mathbb{R}$ .

On note  $(\mathcal{C})$  la courbe représentative de  $f$  dans le plan rapporté à un repère orthonormé  $(0, \vec{i}, \vec{j})$  d'unité graphique 2 cm.

#### Partie A

- 1) a) Calculer les limites de  $f$  en  $-\infty$  et en  $+\infty$ . (0,5 pt)  
b) En déduire que  $(\mathcal{C})$  admet une asymptote dont on précisera une équation. (0,25 pt)
- 2) Soit  $f'$  la fonction dérivée de  $f$ .
  - a) Calculer  $f'(x)$  pour tout réel  $x$ . (0,75 pt)
  - b) Etudier le signe de  $f'(x)$  puis en déduire le sens de variation de  $f$ . (1 pt)
  - c) Dresser son tableau de variation de  $f$ . (1 pt)
- 3) Tracer  $(\mathcal{C})$ , son asymptote et ses tangentes remarquables dans le repère  $(0, \vec{i}, \vec{j})$ . (1 pt)

#### Partie B

Soit  $(D)$  la tangente à  $(\mathcal{C})$  au point d'abscisse 0.

- 1) Déterminer une équation de  $(D)$ . (0,75 pt)
- 2) a) Résoudre dans  $\mathbb{R}$  l'inéquation  $(I) : f(x) - x - 1 \geq 0$ . (0,75 pt)  
b) En déduire les positions relatives de  $(\mathcal{C})$  par rapport à  $(D)$ . (0,5 pt)  
c) A l'aide d'une intégration par parties, calculer en  $\text{cm}^2$  l'aire du domaine compris entre  $(\mathcal{C})$ ,  $(D)$  et les droites d'équations  $x = -1$  et  $x = 1$ . (1 pt)

#### Partie C

On considère l'application  $T$  du plan dans lui-même qui au point  $M$  d'affixe  $z = x + iy$  associe le point  $M'$  d'affixe  $z' = x' + iy$  telle que  $z' = i\bar{z} - 1 + i$ .

- 1) Exprimer  $x'$  en fonction de  $x$  et  $y$ , et  $y'$  en fonction de  $x$  et  $y$ . (1 pt)
- 2) Montrer que l'ensemble des points invariants par  $T$  est  $(D)$ . (0,75 pt)
- 3) Soit  $M$  un point quelconque du plan et  $M' = T(M)$ .
  - a) Montrer que le milieu  $I$  du segment  $[MM']$  appartient à  $(D)$ . (0,75 pt)
  - b) Montrer que si  $M \notin (D)$ , alors la droite  $(MM')$  est perpendiculaire à  $(D)$ . (0,75 pt)
  - c) En déduire la nature de  $T$  et préciser ses éléments caractéristiques. (0,75 pt)
- 4) Construire dans le repère  $(0, \vec{i}, \vec{j})$ , l'image  $(\mathcal{C}')$  par  $T$  de la courbe  $(\mathcal{C})$ . (0,75 pt)



Sujet : 2.

PROPOSITION DE CORRECTION

EXERCICE N°1 : (série C uniquement)

1°) Déterminons  $\alpha$  et  $\beta$  :

Les nombres complexes  $1+i$  et  $1-i$  sont solutions de (E) si, et seulement si :

$$\alpha = (1+i) + (1-i)$$

$$\beta = (1+i) \times (1-i)$$

D'où :

$$\alpha = 2 \quad (0,5 \text{ pt})$$

$$\beta = 2 \quad (0,5 \text{ pt})$$

2°) Réolvons l'équation différentielle  $y'' - 2y' + 2y = 0$  :

L'équation caractéristique de (F) est :

$$r^2 - 2r + 2 = 0. \quad (0,25 \text{ pt})$$

on a :

$$\Delta = (-2)^2 - 4(1)(2) = -4 = (2i)^2$$

Donc :

$$r_1 = \frac{2-2i}{2} = 1-i$$

$$r_2 = \frac{2+2i}{2} = 1+i$$

) (0,25 pt)

Par conséquent, les solutions sur  $\mathbb{R}$  de (F) sont les (0,5 pt)  
fonctions  $x \mapsto e^x (A \cos x + B \sin x)$ ,  $A \in \mathbb{R}$  et  $B \in \mathbb{R}$ .

3°) Calculons la probabilité de A :

Soit  $\Omega$  l'univers des possibles associé à cette expérience aléatoire.

un élément de  $\Omega$  est un couple d'éléments de  $\{1; 2; 3; 4; 5; 6\}$ .

Donc :

$$\text{Card}(\Omega) = 6^2 = 36. \quad (0,25 \text{ pt})$$

Vu que le dé est parfait, alors  $\Omega$  est muni de l'équiprobabilité.

Un élément de  $A$  est un couple d'éléments de  $\{2; 3; 5\}$ .

Donc :

$$\text{Card}(A) = 3^2 = 9 \quad (0,25 \text{ pt})$$

D'où :

$$P(A) = \frac{9}{36} = \frac{1}{4}$$

Par suite,  $P(A) = \frac{1}{4}$ .  $(0,5 \text{ pt})$

b) Calculons la probabilité de B :

L'équation caractéristique de  $y'' - ay' + by = 0$  est  $r^2 - ar + b = 0$ .  $(0,25 \text{ pt})$

Si les solutions de l'équation différentielle  $y'' - ay' + by = 0$  sont les fonctions  $x \mapsto e^x (\lambda \cos x + \mu \sin x)$  avec  $\lambda$  et  $\mu$  des réels, les solutions de l'équation caractéristique sont nécessairement  $1+i$  et  $1-i$ .  $(0,25 \text{ pt})$

D'après 1°) on obtient que  $a=2$  et  $b=2$ .  $(0,25 \text{ pt})$   
Donc  $(2;2)$  est l'unique résultat qui permet à B d'être réalisé.

Ainsi :  $\text{Card}(B) = 1$ .

Par suite,  $P(B) = \frac{1}{36}$ .  $(0,25 \text{ pt})$



## EXERCICE N°2: (Commun aux séries C et E)

1) a) Comparons les positions des points  $M(t)$  et  $M(t+\pi)$ :  
on a pour tout réel  $t$ :

$$x(t+\pi) = \cos^2(t+\pi) = [-\cos t]^2 = \cos^2 t = x(t)$$

$$y(t+\pi) = \sqrt{2} \sin(t+\pi) \cdot \cos(t+\pi) = \sqrt{2} \sin t \cdot \cos t = y(t)$$

Donc les points  $M(t)$  et  $M(t+\pi)$  sont confondus. (0,25pt)

b) Comparons les positions des points  $M(t)$  et  $M(-t)$ :

on a pour tout réel  $t$ :

$$x(-t) = \cos^2(-t) = \cos^2 t = x(t)$$

$$y(-t) = \sqrt{2} \sin(-t) \cdot \cos(-t) = -\sqrt{2} \sin t \cdot \cos t = -y(t)$$

Donc les points  $M(t)$  et  $M(-t)$  sont symétriques par rapport à l'axe  $(O; \vec{t})$ . (0,25pt)

c) Déduisons qu'il suffit de connaître  $(\Gamma)$  sur un intervalle que l'on précisera:

En effet, comme pour tout réel  $t$ , les points  $M(t)$  et  $M(t+\pi)$  sont confondus, alors  $(\Gamma)$  est complète sur  $[-\frac{\pi}{2}; \frac{\pi}{2}]$ . (0,25pt)

Comme de plus pour tout réel  $t$ , les points  $M(t)$  et  $M(-t)$  sont symétriques par rapport à l'axe  $(O; \vec{t})$ , alors on peut restreindre l'étude de  $(\Gamma)$  à l'intervalle  $[0; \frac{\pi}{2}]$ . (0,25pt)

2) a) Étudions les sens de variations de  $x$  et  $y$ :

\* Sens de variation de  $x$  sur  $[0; \frac{\pi}{2}]$ :

$$\text{on a : } x(t) = \cos^2 t, \quad \forall t \in [0; \frac{\pi}{2}].$$

$$\text{Donc : } x'(t) = -2 \sin t \cdot \cos t, \quad \forall t \in [0; \frac{\pi}{2}]. \quad (0,25pt)$$

Comme  $\forall t \in [0; \frac{\pi}{2}]$  on a  $\sin t \geq 0$  et  $\cos t \geq 0$ , alors

$$x'(t) \leq 0 \quad \forall t \in [0; \frac{\pi}{2}].$$

Par conséquent  $x$  est décroissante sur  $[0; \frac{\pi}{2}]$ . (0,25pt)

(3/17)

\* Sens de variation de  $y$  sur  $[0, \frac{\pi}{2}]$

on a :  $y(t) = \sqrt{2} \sin t \cos t, \forall t \in [0; \frac{\pi}{2}]$

Donc :  $y'(t) = \sqrt{2} (\cos t \cos t - \sin t \sin t), \forall t \in [0; \frac{\pi}{2}]$

$= \sqrt{2} (\cos^2 t - \sin^2 t), \forall t \in [0; \frac{\pi}{2}]$

$= \sqrt{2} \cos 2t, \forall t \in [0; \frac{\pi}{2}]$  (0,25 pt)

Comme :

$\forall t \in [0; \frac{\pi}{4}],$  on a  $2t \in [0; \frac{\pi}{2}],$  donc  $\cos 2t \geq 0;$

$\forall t \in [\frac{\pi}{4}; \frac{\pi}{2}],$  on a  $2t \in [\frac{\pi}{2}; \pi],$  donc  $\cos 2t \leq 0.$  (0,25 pt)

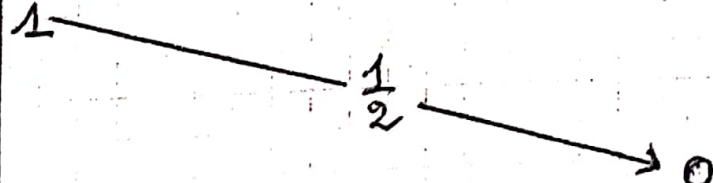
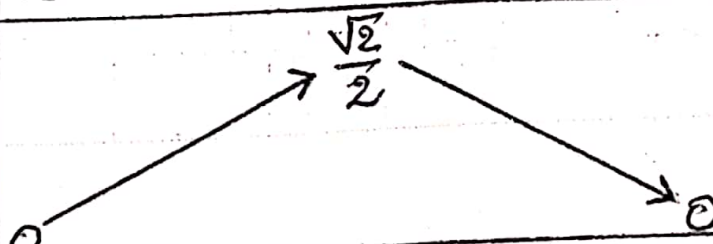
Ainsi :

$\forall t \in [0; \frac{\pi}{4}], y'(t) \geq 0.$  Donc  $y$  est croissante sur  $[0; \frac{\pi}{4}]$

$\forall t \in [\frac{\pi}{4}; \frac{\pi}{2}], y'(t) \leq 0.$  Donc  $y$  est décroissante sur  $[\frac{\pi}{4}; \frac{\pi}{2}].$

b) Dressons le tableau de variations conjoints de  $x$  et  $y$  sur  $[0; \frac{\pi}{2}]$  :

Les résultats précédents sont résumés dans le tableau suivant :

$t$	0		$\frac{\pi}{4}$		$\frac{\pi}{2}$	
$x'(t)$	0	-	-1	-	0	
$x(t)$	1					0
$y'(t)$	$\sqrt{2}$	+	0	-	$-\sqrt{2}$	
$y(t)$	0					0

(0,5 pt)

4/17



c) Tracéons  $(\Gamma)$  dans le repère.

(voir annexe 1) (0,5 pt)

3) a) Montrons qu'une équation cartésienne de  $(\Gamma)$  est  
 $x^2 + y^2 - 2x = 0$  :

on a :

$$\begin{cases} x = \cos^2 t \\ y = \sqrt{2} \sin t \cdot \cos t \end{cases}$$

on obtient :

$$\begin{aligned} y^2 &= 2 \sin^2 t \cdot \cos^2 t \\ &= 2(1 - \cos^2 t) \cos^2 t \\ &= 2(1 - x)x \\ &= 2x - 2x^2 \end{aligned}$$

Donc :

$$x^2 + y^2 - 2x = 0$$

D'où :

$$(\Gamma) : x^2 + y^2 - 2x = 0 \quad (0,5 \text{ pt})$$

b) Déduisons la nature de la courbe  $(\Gamma)$  :

$$\text{on a : } (\Gamma) : x^2 + y^2 - 2x = 0$$

$$\text{or : } x^2 + y^2 - 2x = 0 \Leftrightarrow x^2 - 2x + y^2 = 0$$

$$\Leftrightarrow 2 \left[ \left( x - \frac{1}{2} \right)^2 - \frac{1}{4} \right] + y^2 = 0$$

$$\Leftrightarrow 2 \left( x - \frac{1}{2} \right)^2 + y^2 = \frac{1}{2}$$

$$\Leftrightarrow 4 \left( x - \frac{1}{2} \right)^2 + 2y^2 = 1$$

$$\Leftrightarrow \frac{\left( x - \frac{1}{2} \right)^2}{\frac{1}{4}} + \frac{y^2}{\frac{1}{2}} = 1$$

$$\text{Donc : } (\Gamma) : \frac{\left( x - \frac{1}{2} \right)^2}{\frac{1}{4}} + \frac{y^2}{\frac{1}{2}} = 1. \quad (0,25 \text{ pt})$$

### EXERCICE N°3: (Série E uniquement)

1°) Déterminons la nature de  $(C_1)$  puis représentons  $(C_1)$  dans le repère:

on a:

$$(C_1): y^2 - 4x = 0$$

Donc:

$$(C_1): y^2 = 4x. (0,25 \text{ pt})$$

Par conséquent  $(C_1)$  est une parabole. (0,25 pt);

Pour la représentation de  $(C_1)$  dans le repère, voir annexe 2 (0,5 pt)

2°) Déterminons la nature de  $(C_2)$  puis représentons  $(C_2)$  dans le repère:

on a:

$$(C_2): x^2 + y^2 - 4x = 0$$

on a:

$$x^2 + y^2 - 4x = 0 \Leftrightarrow x^2 - 4x + y^2 = 0$$

$$\Leftrightarrow (x-2)^2 - 4 + y^2 = 0$$

$$\Leftrightarrow (x-2)^2 + y^2 = 4$$

Donc:

$$(C_2): (x-2)^2 + y^2 = 4. (0,25 \text{ pt})$$

Par conséquent  $(C_2)$  est un cercle. (0,25 pt);

Pour la représentation graphique, voir annexe 2 (0,5 pt)

3°) Déterminons la nature de  $(C_3)$  puis représentons  $(C_3)$  dans le même repère:

on a:

$$(C_3): 2x^2 + y^2 - 4x = 0$$

(6/17)



on:

$$\begin{aligned}x^2 + y^2 - 4x &= 0 \Leftrightarrow 2(x^2 - 2x) + y^2 = 0 \\&\Leftrightarrow 2[(x-1)^2 - 1] + y^2 = 0 \\&\Leftrightarrow (x-1)^2 - 1 + \frac{y^2}{2} = 0 \\&\Leftrightarrow (x-1)^2 + \frac{y^2}{2} = 1.\end{aligned}$$

Donc:

$$(C_3): (x-1)^2 + \frac{y^2}{2} = 1. \quad (0,25 \text{ pt})$$

Par conséquent  $(C_3)$  est une ellipse. (0,25 pt) ...

Pour la représentation graphique voir annexe 2 (0,5 pt)

4°) Discutons suivant les valeurs de  $m$  la nature de la courbe  $(C_m)$ :

on a:

$$(C_m): (m-1)x^2 + y^2 - 4x = 0$$

on distingue 2 cas.

• Pour  $m = 1$ , la courbe  $(C_1)$  est une parabole d'après la question 19a9. (0,25 pt)

• Pour  $m \neq 1$ , on a que:

$$(m-1)x^2 + y^2 - 4x = 0 \Leftrightarrow (m-1)\left(x^2 - \frac{4}{m-1}x\right) + y^2 = 0$$

$$\Leftrightarrow (m-1)\left[\left(x - \frac{2}{m-1}\right)^2 - \frac{4}{(m-1)^2}\right] + y^2 = 0$$

$$\Leftrightarrow (m-1)\left(x - \frac{2}{m-1}\right)^2 + y^2 = \frac{4}{m-1}$$

$$\Leftrightarrow \frac{\left(x - \frac{2}{m-1}\right)^2}{\frac{4}{(m-1)^2}} + \frac{y^2}{\frac{4}{m-1}} = 1.$$

D'où:

$$(C_m): \frac{\left(x - \frac{2}{m-1}\right)^2}{\frac{4}{(m-1)^2}} + \frac{y^2}{\frac{4}{m-1}} = 1. \quad (0,25 \text{ pt})$$

(7/17)

on distingue 2 sous-cas :

- si  $m < 1$ , alors  $(C_m)$  est une hyperbole. (0, 2 sps)
- si  $m > 1$ , alors  $(C_m)$  est une ellipse. (0, 2 sps)



Sujet: 2.

Problème:

(Séries C et E)

PROPOSITION DE CORRIGÉ

Partie A:

1) a) Calculons les limites de  $f$  en  $-\infty$  et en  $+\infty$ :

On a:

$$\lim_{x \rightarrow -\infty} f(x) = \lim_{x \rightarrow -\infty} (x e^{2x} + 1) = 1$$

$$\text{Car } \lim_{x \rightarrow -\infty} x e^{2x} = 0 \text{ et } \lim_{x \rightarrow -\infty} 1 = 1.$$

$$\text{Donc: } \lim_{x \rightarrow -\infty} f(x) = 1. \quad (0,25 \text{ pt})$$

On a:

$$\lim_{x \rightarrow +\infty} f(x) = \lim_{x \rightarrow +\infty} (x e^{2x} + 1) = +\infty$$

$$\text{Car } \lim_{x \rightarrow +\infty} x e^{2x} = +\infty \text{ et } \lim_{x \rightarrow +\infty} 1 = 1.$$

$$\text{Donc: } \lim_{x \rightarrow +\infty} f(x) = +\infty \quad (0,25 \text{ pt})$$

b) Déduisons que (C) admet une asymptote dont on précisera une équation:

De  $\lim_{x \rightarrow -\infty} f(x) = 1$ , on déduit que (C) admet une asymptote d'équation  $y = 1$ . (0,25 pt)

2) a) Calculons  $f'(x)$  pour tout réel  $x$ :

$f$  est dérivable sur  $\mathbb{R}$  et on a:

$$\begin{aligned} \forall x \in \mathbb{R}, f'(x) &= e^{2x} + 2x e^{2x} \\ &= (1 + 2x) e^{2x}. \end{aligned}$$

(0,75 pt)

9/17

b) Étudions le signe de  $f'(x)$  puis déduisons le sens de variation de  $f$ :

on a pour tout réel  $x$ ,  $f'(x) = (1+2x)e^{2x}$ .

Vue que  $e^{2x} > 0 \forall x \in \mathbb{R}$ , alors le signe de  $f'(x)$  est celui de  $1+2x$ .

D'où :

$$\left. \begin{array}{l} \forall x \in ]-\infty; -\frac{1}{2}[ , f'(x) < 0 \\ \forall x \in ]-\frac{1}{2}; +\infty[ , f'(x) > 0 \\ \forall x \in \{-\frac{1}{2}\} , f'(x) = 0 \end{array} \right\} (0,5 \text{ pt})$$

Par conséquent,  $f$  est strictement décroissante sur  $]-\infty; -\frac{1}{2}]$  et strictement croissante sur  $[-\frac{1}{2}; +\infty[$ . (0,5 pt)

c) Dressons le tableau de variations de  $f$ :

Les résultats précédents sont consignés dans le tableau ci-dessous.

$x$	$-\infty$	$-\frac{1}{2}$	$+\infty$
$f'(x)$		$-$	$+$
$f$	$1$	$1 - \frac{1}{2e}$	$+\infty$

(1 pt)

3) Traçons (C), son asymptote et ses tangentes remarquables

voir annexe 3

(1 pt)

10/17



Partie B:

1°) Déterminons une équation de (D):

on a que:

$$(D): y = f'(0)(x-0) + f(0) \quad (0,25 \text{ pt})$$

Comme  $f'(0) = 1$  et  $f(0) = 1$ , on obtient:

$$(D): y = x + 1. \quad (0,5 \text{ pt})$$

2°) a°) Réolvons dans  $\mathbb{R}$  l'inéquation (I):

on a que:

$$(I) \Leftrightarrow f(x) - x - 1 \geq 0$$

$$\Leftrightarrow x e^{2x} + 1 - x - 1 \geq 0$$

$$\Leftrightarrow x(e^{2x} - 1) \geq 0 \quad (0,25 \text{ pt})$$

Dressons le tableau de signe de  $x(e^{2x} - 1)$ :

$x$	$-\infty$	$0$	$+\infty$
$x$	$-$	$0$	$+$
$e^{2x} - 1$	$-$	$0$	$+$
$x(e^{2x} - 1)$	$+$	$0$	$+$

(0,25 pt)

Ainsi,  $\forall x \in \mathbb{R}$  on a  $x(e^{2x} - 1) \geq 0$ .

Par suite:

$$S_{\mathbb{R}} = \mathbb{R}. \quad (0,25 \text{ pt})$$

b°) Déduisons les positions relatives de (C) par rapport à (D):

on a  $f(x) - x - 1 \geq 0 \quad \forall x \in \mathbb{R}$ . On en déduit alors que (C) est au dessus de (D) sur  $\mathbb{R}$ . (0,5 pt)

c°) Calculons l'aire en cm<sup>2</sup> du domaine défini :  
soit S cette aire.

on a que :

$$S = \int_{-1}^1 (f(x) - x - 1) dx \quad (ua) \quad (0,25 pt)$$

$$= \int_{-1}^1 (x e^{2x} - x) dx$$

$$= \int_{-1}^1 x e^{2x} dx - \int_{-1}^1 x dx$$

\* Calculons  $\int_{-1}^1 x e^{2x} dx$

Ponons :

$$u'(x) = e^{2x} \Leftrightarrow u(x) = \frac{1}{2} e^{2x}$$

$$v(x) = x \Rightarrow v'(x) = 1$$

on obtient :

$$\int_{-1}^1 x e^{2x} dx = \left[ \frac{1}{2} x e^{2x} \right]_{-1}^1 - \frac{1}{2} \int_{-1}^1 e^{2x} dx$$

$$= \left[ \frac{1}{2} x e^{2x} \right]_{-1}^1 - \frac{1}{2} \left[ \frac{1}{2} e^{2x} \right]_{-1}^1$$

$$= \left[ \frac{1}{2} x e^{2x} - \frac{1}{4} e^{2x} \right]_{-1}^1$$

$$= \left( \frac{1}{2} e^2 - \frac{1}{4} e^2 \right) - \left( -\frac{1}{2} e^{-2} - \frac{1}{4} e^{-2} \right)$$

$$= \frac{1}{4} e^2 + \frac{3}{4} e^{-2}$$

(0,25 pt)

\* Calculons  $\int_{-1}^1 x dx$

on a :

$$\int_{-1}^1 x dx = \left[ \frac{1}{2} x^2 \right]_{-1}^1 = \frac{1}{2} - \frac{1}{2} = 0$$

(0,25 pt)

12/17



Par suite :

$$S = \frac{1}{4} e^2 + \frac{3}{4} e^{-2} \text{ u.a.}$$

Comme  $1 \text{ u.a.} = 2 \text{ cm} \times 2 \text{ cm} = 4 \text{ cm}^2$ , alors il vient que :

$$S = e^2 + 3e^{-2} \text{ cm}^2. \quad (0,25 \text{ pt})$$

Partie C :

1°) Exprimons  $x'$  en fonction de  $x$  et  $y$  et  $y'$  en fonction de  $x$  et  $y$   
on a que :

$$z' = i\bar{z} - 1 + i \Leftrightarrow x' + iy' = i(x - iy) - 1 + i$$

$$\Leftrightarrow x' + iy' = ix + y - 1 + i$$

$$\Leftrightarrow x' + iy' = y - 1 + i(x + 1)$$

$$\Leftrightarrow \begin{cases} x' = y - 1 \\ y' = x + 1 \end{cases}$$

Donc :

$$\begin{cases} x' = y - 1 \\ y' = x + 1 \end{cases} \quad (0,5 \text{ pt})$$

$$\begin{cases} x' = y - 1 \\ y' = x + 1 \end{cases} \quad (0,5 \text{ pt})$$

2°) Montrons que l'ensemble des points invariants par  $T$  est  $(D)$  :

En effet, soit  $M$  un point du plan.

on a :

$$T(M) = M \Leftrightarrow \begin{cases} x = y - 1 \\ y = x + 1 \end{cases}$$

$$\Leftrightarrow \begin{cases} y = x + 1 \\ y = x + 1 \end{cases}$$

$$\Leftrightarrow y = x + 1. \quad (0,5 \text{ pt})$$

$$\Leftrightarrow M \in (D).$$

13/17

Donc l'ensemble des points invariants par  $T$  est  $(\mathcal{D})$ . (0,25pt)  
 3°) a°) Montrons que le milieu  $I$  du segment  $[MM']$  appartient à  $(\mathcal{D})$ .

on a:

$$x_I = \frac{x+x'}{2} = \frac{x+y-1}{2} \quad \text{et} \quad y_I = \frac{y+y'}{2} = \frac{y+x+1}{2} \quad (0,25pt)$$

on aura:

$$y_I = \frac{y+x+1}{2} = \frac{x+y-1+2}{2} = \frac{x+y-1}{2} + 1 = x_I + 1$$

Donc  $y_I = x_I + 1$ . (0,25pt)

Par conséquent  $I \in (\mathcal{D})$ . (0,25pt)

b°) Montrons que si  $M \notin (\mathcal{D})$ , alors  $(MM') \perp (\mathcal{D})$ :

Soit  $\vec{u} \begin{pmatrix} 1 \\ 1 \end{pmatrix}$  un vecteur directeur de  $(\mathcal{D})$ . (0,25pt)

on a:  $\overrightarrow{MM'} \begin{pmatrix} x'-x \\ y'-y \end{pmatrix}$  c'est-à-dire  $\overrightarrow{MM'} \begin{pmatrix} y-1-x \\ x+1-y \end{pmatrix}$

on aura que:

$$\begin{aligned} \vec{u} \cdot \overrightarrow{MM'} &= 1 \times (y-1-x) + 1 \times (x+1-y) \\ &= y-1-x+x+1-y \\ &= 0. \end{aligned} \quad (0,25pt)$$

Donc  $\vec{u} \perp (MM')$ .

Comme  $\vec{u} \perp (MM')$ , alors  $(MM') \perp (\mathcal{D})$ . (0,25pt)

c°) Nature et élément caractéristiques de  $T$ :

Des questions précédentes, on déduit que  $T$  est la réflexion d'axe  $(\mathcal{D})$ , avec  $(\mathcal{D}): y = x+1$ . (0,75pt)

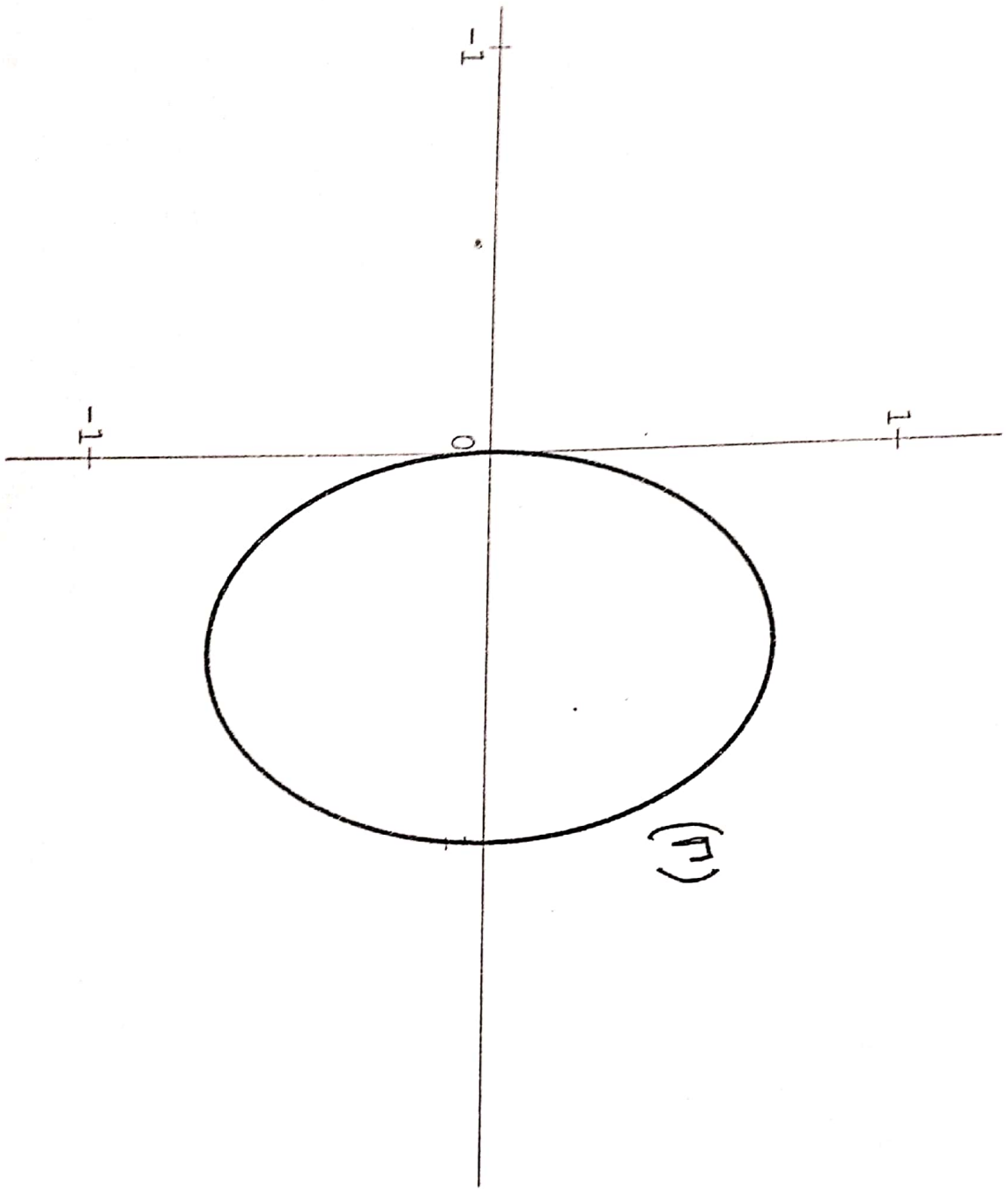
4°) Construction de l'image  $(\mathcal{E}')$  de  $(\mathcal{E})$  par  $T$ :

(voir annexe.) (0,75pt)

14/17

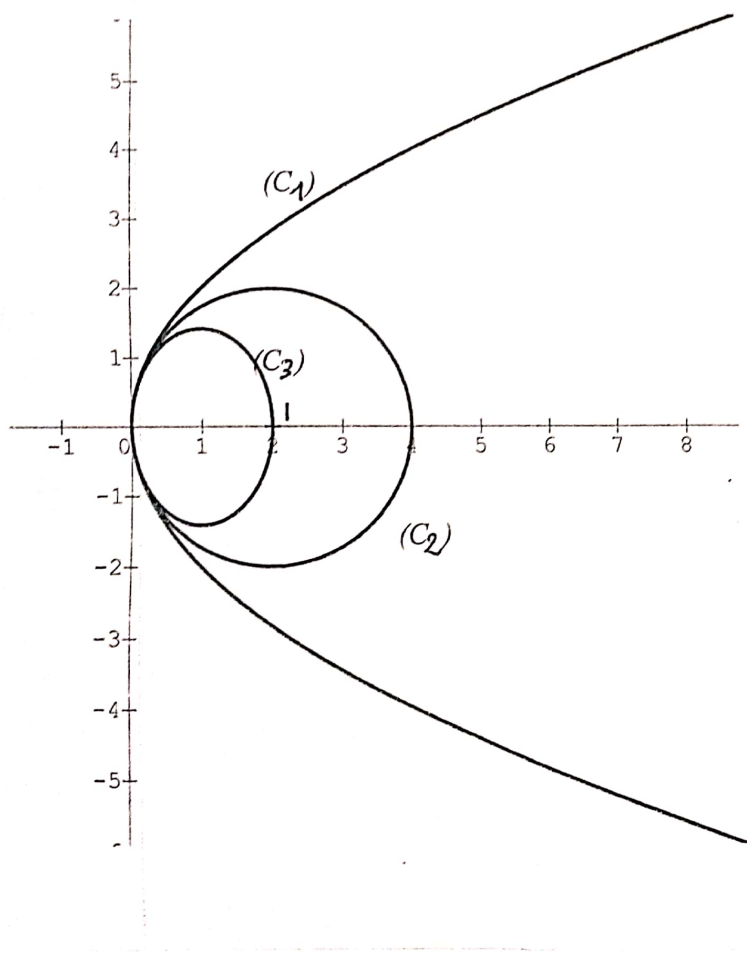
FIN





annexe 1

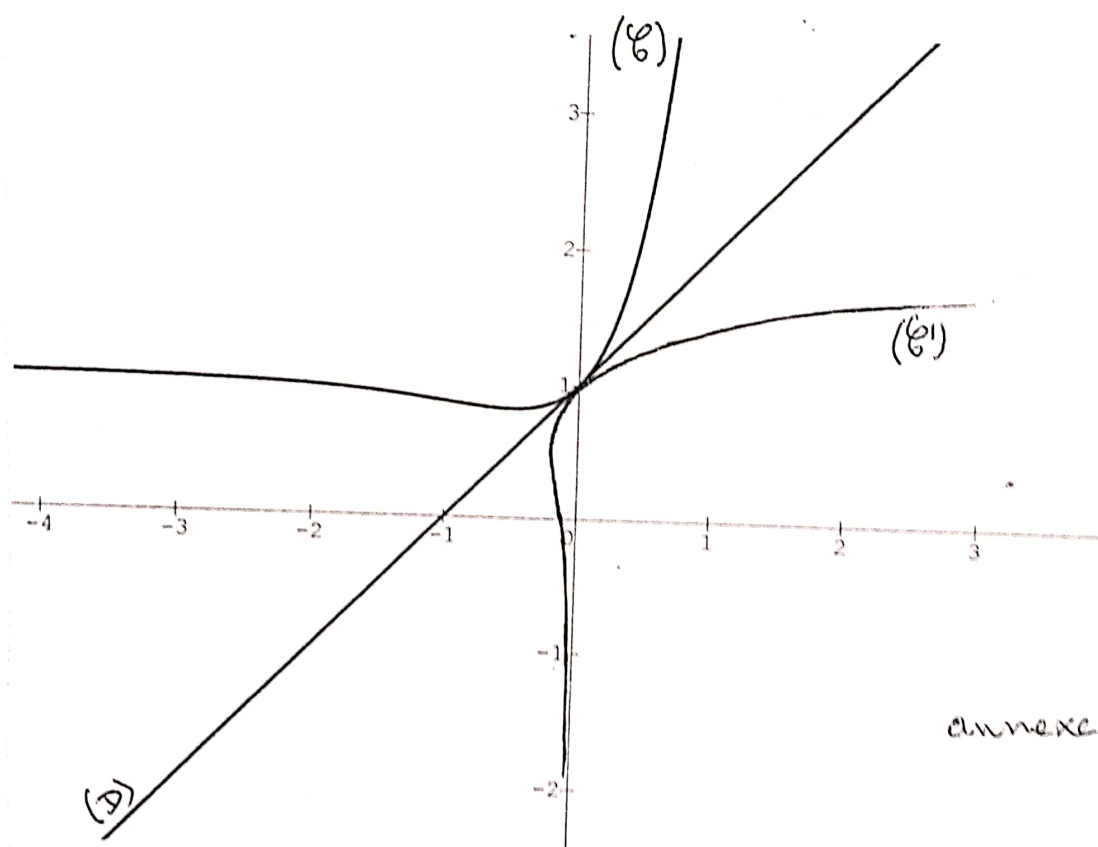
15/17



annexe 2

(16/17)





annexe 3

17/17